


S1.Yandaki sözcüklerin eş anlamlarını bulmacanın uygun kutucukları içine yazalım.



1. sandal
2. endüstri
3. tüy
4. şelale

S2.Verilen sözcüklerden **Ünsüz Yumuşaması** kuralına uyanları (X) ile işaretleyelim.

| | |
|--|----------|
| | evladı |
| | burnum |
| | koruyucu |
| | çocuğum |

| | |
|--|----------|
| | cildi |
| | bulaşığı |
| | çürüğü |
| | ihtimal |

S3. " Her yiğidin bir yoğurt yiyişi vardır. " cümlesini oluşturan sözcükleri alfabetik sıraya göre yazalım.

1.
2.
3.
4.
5.
6.

S4.Aşağıda verilen rakamlar,harflerin alfabemizdeki sırasını anlatır. Buna göre sayıların yerine harfleri yazıp şifreyi çözelim.

| | | | | | | | |
|----|---|----|----|----|---|----|----|
| 28 | 1 | 20 | 24 | 11 | 9 | 11 | 17 |
| | | | | | | | |

| | | | | | |
|----|---|----|----|----|---|
| 10 | 1 | 21 | 12 | 14 | 1 |
| | | | | | |

| | | | | | | | | |
|----|---|----|----|----|----|---|----|---|
| 21 | 6 | 22 | 12 | 16 | 15 | 6 | 21 | 6 |
| | | | | | | | | |

| | | | | | | | |
|---|---|----|----|----|---|----|----|
| 2 | 1 | 28 | 11 | 15 | 5 | 11 | 16 |
| | | | | | | | |

- S5. I. Korkunç bir rüya olduğunu anladım.
II. Bütün köpekler peşimden koşuyordu.
III. O arada annemin yumuşacık sesini duydum.
IV. Kocaman, sivri dişleri vardı.

Yukarıda karışık cümleler halinde verilen paragrafı doğru sıraya koyarak aşağıya yazalım.

S5. " Annem, dört yıl önce belediyede işe başladı. " cümlesine göre, aşağıdaki soruları cevaplayalım.

- a) Kim? :
b) Ne zaman? :

S6. "Babaların gönlünü almak zordur. " cümlesinde hangi sözcükte **ünlü düşmesi** görülmektedir?

S1.Verilen sayının okunuşunu yazalım.

a) 88.426 :

S2.Okunuşu verilen sayıyı rakamla yazalım.

dört yüz otuz yedi bin dört :

S3. Verilen tabloda boş bırakılan yerlere uygun sayı ve ifadeleri yazalım.

| | | | | | | |
|----------------|---------|-------|------|---|---|---|
| Sayı | 145.057 | | | | | |
| B. Adı | Yüz B. | On B. | Bin. | Y | O | B |
| Basamak Değeri | | | | | | |
| Okunuşu | | | | | | |

S4. Aşağıda çözümlenerek yazılmış sayı kaçtır?
(2x10.000) + (8x100) + (3x1)

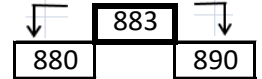
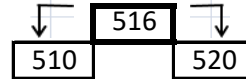
S5.Aşağıda verilen sayıları büyükten küçüğe doğru (> , <) işaretlerini kullanarak sıralayalım.

4.704 - 4.707 - 4.740 - 4.407

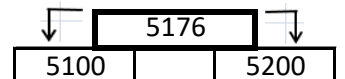
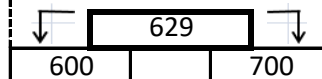
S6. Aşağıda sayı değerleri karışık olarak verilen sayıları altta verilen kutucuğa yazalım.

Binler B: 4 Yz Bnler B: 2
Yüzler B : 8 Onlar B. : 9
On Bin. B : 1 Birler B : 6
Binler B: 6

S7.Üstteki sayının **en yakın olduğu onluğu** boya.

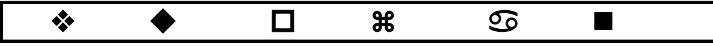


S8.Üstteki sayının **en yakın olduğu yüzlüğü** boya.



S9. " 317 - 327 - 337 -347 - 357 - " örüntüsü 5 adım daha ilerletildiğinde hangi sayıya ulaşılır?

S1. Aşağıda verilen görseli kronojik olarak sıraya dizdiğimizde hangi seçenek doğru olur?



- a) ◆ - ❖ - ☹ - □ - ☺ - ■
 b) ☺ - ❖ - □ - ◆ - ■ - ☹
 c) ❖ - □ - ■ - ◆ - ☺ - ☹
 d) ☺ - □ - ❖ - ☹ - ◆ - ■

S2. Serdar'ın boyu 150 cm, tartısı ise 48 kg'dır. Esmer tenli ve siyah saçlıdır. " Serdar ile ilgili verilen bilgiler aşağıdakilerden hangisi ile ilgilidir?

- a) Duygusal Özellikler
 b) Üstün Özellikleri
 c) Fiziksel Özellikler
 d) Düşünce Özellikleri

- S3. ◀ parmak izi
 ☒ karamsarlık
 ☹ mutluluk
 ☒ merhamet

Yukarıda verilenlerden hangisi duygusal özelliklerimizden biri **değildir**?

- a) ◀
 b) ☒
 c) ☹
 d) ☒

S4. " Kim olursan ol, yine gel. " sözüyle Mevlana hangi duygunun önemini vurgulamaktadır?

- a) hoşgörü
 b) acıma
 c) yardımlaşma
 d) karamsarlık

S5. Aşağıdaki ifadelerden hangisi **yanlıştır**?

- a) Farklılıklarımız toplum için birer zenginlik kaynağıdır.
 b) Duygu ve düşüncelerimiz davranışlarımızı etkiler.
 c) Bizden farklı kişileri anlamak için empati kurmalıyız.
 d) Farklı özellikteki insanlara her zaman ön yargılı yaklaşmalıyız.

S6. Kimlik kartımızda "?" ile gösterilen yerde hangi bilgi yer alır?

- a) Cinsiyet
 b) İmza
 c) Uyruk
 d) Geçerlilik Tarihi



S1. Dünya'nın kendi eksenini etrafında bir tam tur dönmesiyle aşağıdakilerden hangisi oluşur?

- a) 1 gün
 b) mevsimler
 c) 365 gün 6 saat
 d) artık yıl

S2. Verilenlerden hangisi Dünya'mızın dolanma hareketi sonucunda **oluşmaz**?

- a) Mevsimlerin arasında sıcaklık farkı oluşur.
 b) Kara ve denizler arasında sıcaklık farkı oluşur.
 c) Mevsimlerin oluşmasını sağlar.
 d) Gece ve gündüz birbirini takip eder.

S3. Kara tabakası ile ilgili verilen bilgilerden hangisi **yanlıştır**?

- a) Kalınlığı her yerde aynıdır.
 b) Dünya yüzeyinin yaklaşık üçte birini kaplar.
 c) Üzerinde canlılar yaşar.
 d) Kayaç ve topraktan meydana gelir.

S4.



Yukarıdaki kavram haritasında I ve II numaralı yerlere hangi sözcükler yazılmalıdır?

- | I. | II. |
|------------|---------|
| a) Altın | Kayaç |
| b) Mineral | Maden |
| c) Toprak | Kum |
| d) Maden | Mineral |

S5. Aşağıda verilen bilgilerden hangisi **yanlıştır**?

- a) Yalnızca bitkilerin fosilleri bulunabilir.
 b) Fosiller, canlının yaşadığı dönem hakkında bize bilgi verir.
 c) Bir canlının fosil haline gelmesi için milyonlarca yıl devam eden bir süreç gereklidir.
 d) Fosiller bir çiçek tohumu büyüklüğünde ya da bir dinazor kemiği büyüklüğünde olabilir.

S6. Verilen bilgilerden hangisi **yanlıştır**?

- a) Kayaçlar farklı renk ve sertlikte olabilir.
 b) Kayaçların tamamında fosil bulunur.
 c) Kayaçlar yer kabuğunu oluşturur.
 d) Kayaçlar, minerallerin birleşmesiyle oluşur.